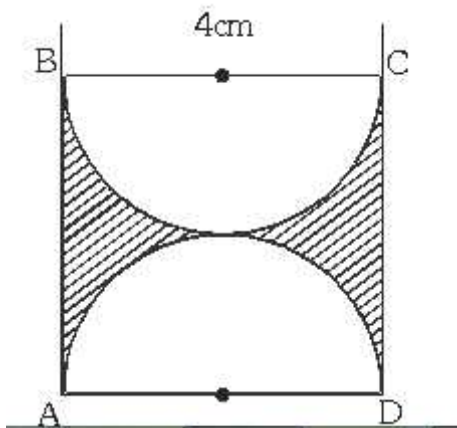




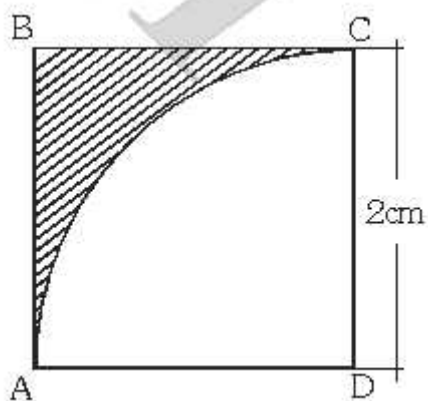
Guía de Matemática 2 mes de Octubre

Nombre:	Curso: 7°A - B
Unidad: Geometría	Profesor: Mister Carlos/ Miss Silvana
Contenido:	
Objetivo(s):	

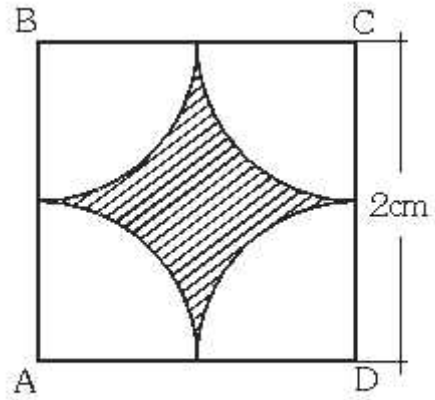
1.- Halla el área de la región sombreada, si ABCD es un cuadrado



2.- Halla el área de la región sombreada, si ABCD es un cuadrado



3.- Halla el área de la región sombreada, si ABCD es un cuadrado



4.- Encuentre el área de la zona sombreada.

